



Rekenen maar...

1. Hoeveel pakken speculaaspoppen heb je nodig?
 Er zijn pakken van 3 en pakken van 5 poppen.
 Je mag geen pakken openmaken!
 Koop dus alleen hele pakken.



| | | |
|-----------|--|--|
| 18 poppen | | |
| 26 poppen | | |
| 11 poppen | | |
| 17 poppen | | |

2.



Piet heeft 60 pepernoten gestrooid.


2 kinderen delen de pepernoten, ieder krijgt er _____

4 kinderen delen de pepernoten, ieder krijgt er _____

3 kinderen delen de pepernoten, ieder krijgt er _____

5 kinderen delen de pepernoten, ieder krijgt er _____

3. Piet gaat chocoladeletters inpakken.
 4 stuks van elke letter van het alfabet.



Samen zijn dat _____ letters.

4.



Sinterklaas legt elke dag een aantal bezoeken af.
 Deze middag besteedde hij 3 uur aan bezoeken.

In de winkel van Blokker: 30 minuten
 Bij de familie de Vries: 20 minuten.
 Op het kinderdagverblijf: 60 minuten
 Bij de familie Wouters: 10 minuten
 Bij de turnclub: 40 minuten

Bij de familie Samson bleef hij _____ minuten

5. Bedenk nu zelf een verhaalsom op de achterkant van het blad en laat iemand hem oplossen.